

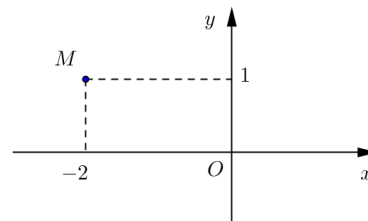
Họ, tên thí sinh: .....

Số báo danh: .....

Mã đề thi 001

**Câu 1.** Điểm  $M$  trong hình vẽ bên là điểm biểu diễn số phức

- A.  $z = -2 + i$ .                      B.  $z = 1 - 2i$ .  
 C.  $z = 2 + i$ .                         D.  $z = 1 + 2i$ .



**Câu 2.**  $\lim_{x \rightarrow +\infty} \frac{x-2}{x+3}$  bằng

- A.  $-\frac{2}{3}$ .                                  B. 1.                                      C. 2.                                      D. -3.

**Câu 3.** Cho tập hợp  $M$  có 10 phần tử. Số tập con gồm 2 phần tử của  $M$  là

- A.  $A_{10}^8$ .                                  B.  $A_{10}^2$ .                                  C.  $C_{10}^2$ .                                  D.  $10^2$ .

**Câu 4.** Thể tích của khối chóp có chiều cao bằng  $h$  và diện tích đáy bằng  $B$  là

- A.  $V = \frac{1}{3} Bh$ .                              B.  $V = \frac{1}{6} Bh$ .                              C.  $V = Bh$ .                                 D.  $V = \frac{1}{2} Bh$ .

**Câu 5.** Cho hàm số  $y = f(x)$  có bảng biến thiên như sau

$x$	$-\infty$	-2	0	2	$+\infty$
$y'$	+	0	-	+	-
$y$	$-\infty$	↗ 3	↘ -1	↗ 3	↘ $-\infty$

Hàm số  $y = f(x)$  nghịch biến trên khoảng nào dưới đây ?

- A.  $(-2; 0)$ .                                B.  $(-\infty; -2)$ .                                C.  $(0; 2)$ .                                      D.  $(0; +\infty)$ .

**Câu 6.** Cho hàm số  $y = f(x)$  liên tục trên đoạn  $[a; b]$ . Gọi  $D$  là hình phẳng giới hạn bởi đồ thị của hàm số  $y = f(x)$ , trục hoành và hai đường thẳng  $x = a, x = b (a < b)$ . Thể tích của khối tròn xoay tạo thành khi quay  $D$  quanh trục hoành được tính theo công thức

- A.  $V = \pi \int_a^b f^2(x) dx$ .                      B.  $V = 2\pi \int_a^b f^2(x) dx$ .                      C.  $V = \pi^2 \int_a^b f^2(x) dx$ .                      D.  $V = \pi^2 \int_a^b f(x) dx$ .

**Câu 7.** Cho hàm số  $y = f(x)$  có bảng biến thiên như sau

$x$	$-\infty$	0	2	$+\infty$
$y'$	-	0	+	-
$y$	$+\infty$	↘ 1	↗ 5	↘ $-\infty$

Hàm số đạt cực đại tại điểm

- A.  $x = 1$ .                                      B.  $x = 0$ .                                      C.  $x = 5$ .                                      D.  $x = 2$ .



**Câu 18.** Giá trị lớn nhất của hàm số  $f(x) = x^4 - 4x^2 + 5$  trên đoạn  $[-2; 3]$  bằng

- A. 50.                                      B. 5.                                      C. 1.                                      D. 122.

**Câu 19.** Tích phân  $\int_0^2 \frac{dx}{x+3}$  bằng

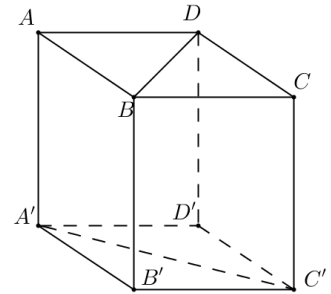
- A.  $\frac{16}{225}$ .                                      B.  $\log \frac{5}{3}$ .                                      C.  $\ln \frac{5}{3}$ .                                      D.  $\frac{2}{15}$ .

**Câu 20.** Gọi  $z_1$  và  $z_2$  là hai nghiệm phức của phương trình  $4z^2 - 4z + 3 = 0$ . Giá trị của biểu thức  $|z_1| + |z_2|$  bằng

- A.  $3\sqrt{2}$ .                                      B.  $2\sqrt{3}$ .                                      C. 3.                                      D.  $\sqrt{3}$ .

**Câu 21.** Cho hình lập phương  $ABCD.A'B'C'D'$  có cạnh bằng  $a$  (tham khảo hình vẽ bên). Khoảng cách giữa hai đường thẳng  $BD$  và  $A'C'$  bằng

- A.  $\sqrt{3}a$ .                                      B.  $a$ .  
C.  $\frac{\sqrt{3}a}{2}$ .                                      D.  $\sqrt{2}a$ .



**Câu 22.** Một người gửi 100 triệu đồng vào một ngân hàng với lãi suất 0,4% /tháng. Biết rằng nếu không rút tiền ra khỏi ngân hàng thì cứ sau mỗi tháng, số tiền lãi sẽ được nhập vào vốn ban đầu để tính lãi cho tháng tiếp theo. Hỏi sau đúng 6 tháng, người đó được lĩnh số tiền (cả vốn ban đầu và lãi) gần nhất với số tiền nào dưới đây, nếu trong khoảng thời gian này người đó không rút tiền ra và lãi suất không thay đổi ?

- A. 102.424.000 đồng.    B. 102.423.000 đồng.    C. 102.016.000 đồng.    D. 102.017.000 đồng.

**Câu 23.** Một hộp chứa 11 quả cầu gồm 5 quả cầu màu xanh và 6 quả cầu màu đỏ. Chọn ngẫu nhiên đồng thời 2 quả cầu từ hộp đó. Xác suất để 2 quả cầu chọn ra cùng màu bằng

- A.  $\frac{5}{22}$ .                                      B.  $\frac{6}{11}$ .                                      C.  $\frac{5}{11}$ .                                      D.  $\frac{8}{11}$ .

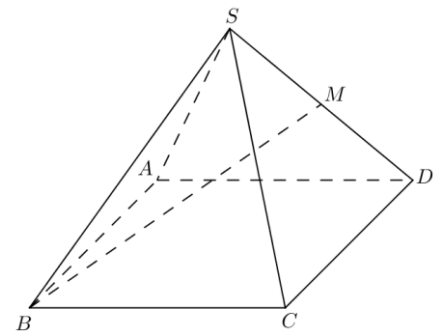
**Câu 24.** Trong không gian  $Oxyz$ , cho hai điểm  $A(-1; 2; 1)$  và  $B(2; 1; 0)$ . Mặt phẳng qua  $A$  và vuông góc với  $AB$  có phương trình là

- A.  $3x - y - z - 6 = 0$ .                                      B.  $3x - y - z + 6 = 0$ .  
C.  $x + 3y + z - 5 = 0$ .                                      D.  $x + 3y + z - 6 = 0$ .

**Câu 25.** Cho hình chóp tứ giác đều  $S.ABCD$  có tất cả các cạnh bằng  $a$ . Gọi  $M$  là trung điểm của  $SD$  (tham khảo hình vẽ bên).

Tang của góc giữa đường thẳng  $BM$  và mặt phẳng  $(ABCD)$  bằng

- A.  $\frac{\sqrt{2}}{2}$ .                                      B.  $\frac{\sqrt{3}}{3}$ .  
C.  $\frac{2}{3}$ .                                      D.  $\frac{1}{3}$ .



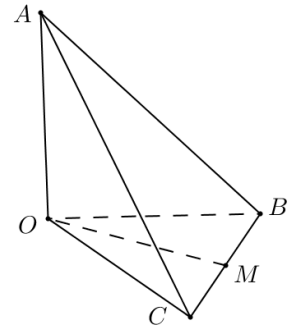
**Câu 26.** Với  $n$  là số nguyên dương thỏa mãn  $C_n^1 + C_n^2 = 55$ , số hạng không chứa  $x$  trong khai triển của biểu thức  $\left(x^3 + \frac{2}{x^2}\right)^n$  bằng

- A. 322560.                                      B. 3360.                                      C. 80640.                                      D. 13440.

**Câu 27.** Tổng giá trị tất cả các nghiệm của phương trình  $\log_3 x \cdot \log_9 x \cdot \log_{27} x \cdot \log_{81} x = \frac{2}{3}$  bằng

- A.  $\frac{82}{9}$ .                                      B.  $\frac{80}{9}$ .                                      C. 9.                                      D. 0.

**Câu 28.** Cho tứ diện  $OABC$  có  $OA, OB, OC$  đôi một vuông góc với nhau và  $OA=OB=OC$ . Gọi  $M$  là trung điểm của  $BC$  (tham khảo hình vẽ bên). Góc giữa hai đường thẳng  $OM$  và  $AB$  bằng



- A.  $90^\circ$ .
- B.  $30^\circ$ .
- C.  $60^\circ$ .
- D.  $45^\circ$ .

**Câu 29.** Trong không gian  $Oxyz$ , cho hai đường thẳng  $d_1: \frac{x-3}{-1} = \frac{y-3}{-2} = \frac{z+2}{1}; d_2: \frac{x-5}{-3} = \frac{y+1}{2} = \frac{z-2}{1}$  và mặt phẳng  $(P): x+2y+3z-5=0$ . Đường thẳng vuông góc với  $(P)$ , cắt  $d_1$  và  $d_2$  có phương trình là

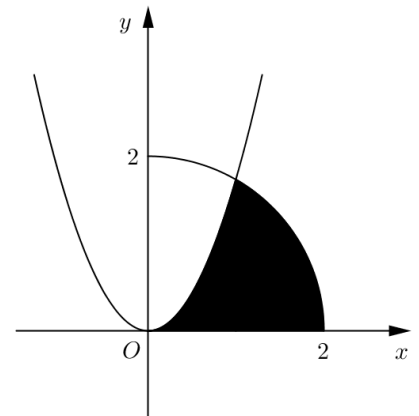
- A.  $\frac{x-1}{1} = \frac{y+1}{2} = \frac{z}{3}$ .
- B.  $\frac{x-2}{1} = \frac{y-3}{2} = \frac{z-1}{3}$ .
- C.  $\frac{x-3}{1} = \frac{y-3}{2} = \frac{z+2}{3}$ .
- D.  $\frac{x-1}{3} = \frac{y+1}{2} = \frac{z}{1}$ .

**Câu 30.** Có bao nhiêu giá trị nguyên âm của tham số  $m$  để hàm số  $y = x^3 + mx - \frac{1}{5x^5}$  đồng biến trên khoảng  $(0; +\infty)$  ?

- A. 5.
- B. 3.
- C. 0.
- D. 4.

**Câu 31.** Cho  $(H)$  là hình phẳng giới hạn bởi parabol  $y = \sqrt{3}x^2$ , cung tròn có phương trình  $y = \sqrt{4-x^2}$  (với  $0 \leq x \leq 2$ ) và trục hoành (phần tô đậm trong hình vẽ). Diện tích của  $(H)$  bằng

- A.  $\frac{4\pi + \sqrt{3}}{12}$ .
- B.  $\frac{4\pi - \sqrt{3}}{6}$ .
- C.  $\frac{4\pi + 2\sqrt{3} - 3}{6}$ .
- D.  $\frac{5\sqrt{3} - 2\pi}{3}$ .



**Câu 32.** Biết  $\int_1^2 \frac{dx}{(x+1)\sqrt{x+x\sqrt{x+1}}} = \sqrt{a} - \sqrt{b} - c$  với  $a, b, c$  là các số nguyên dương. Tính  $P = a + b + c$ .

- A.  $P = 24$ .
- B.  $P = 12$ .
- C.  $P = 18$ .
- D.  $P = 46$ .

**Câu 33.** Cho tứ diện đều  $ABCD$  có cạnh bằng 4. Tính diện tích xung quanh  $S_{xq}$  của hình trụ có một đường tròn đáy là đường tròn nội tiếp tam giác  $BCD$  và chiều cao bằng chiều cao của tứ diện  $ABCD$ .

- A.  $S_{xq} = \frac{16\sqrt{2}\pi}{3}$ .
- B.  $S_{xq} = 8\sqrt{2}\pi$ .
- C.  $S_{xq} = \frac{16\sqrt{3}\pi}{3}$ .
- D.  $S_{xq} = 8\sqrt{3}\pi$ .

**Câu 34.** Có bao nhiêu giá trị nguyên dương của tham số  $m$  để phương trình  $16^x - 2 \cdot 12^x + (m-2)9^x = 0$  có nghiệm dương ?

- A. 1.
- B. 2.
- C. 4.
- D. 3.

**Câu 35.** Có bao nhiêu giá trị nguyên của tham số  $m$  để phương trình  $\sqrt[3]{m+3}\sqrt[3]{m+3}\sin x = \sin x$  có nghiệm thực ?

- A. 5.
- B. 7.
- C. 3.
- D. 2.

**Câu 36.** Gọi  $S$  là tập hợp tất cả các giá trị của tham số thực  $m$  sao cho giá trị lớn nhất của hàm số  $y = |x^3 - 3x + m|$  trên đoạn  $[0; 2]$  bằng 3. Số phần tử của  $S$  là

- A. 1.
- B. 2.
- C. 0.
- D. 6.

**Câu 37.** Cho hàm số  $f(x)$  xác định trên  $\mathbb{R} \setminus \left\{ \frac{1}{2} \right\}$  thỏa mãn  $f'(x) = \frac{2}{2x-1}$ ,  $f(0) = 1$  và  $f(1) = 2$ . Giá trị của biểu thức  $f(-1) + f(3)$  bằng

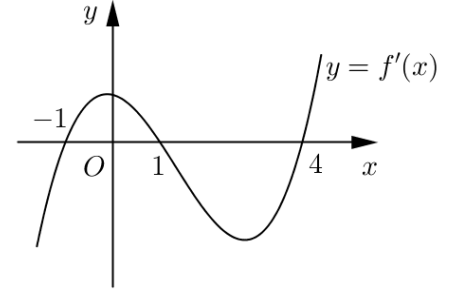
- A.  $4 + \ln 15$ .                      B.  $2 + \ln 15$ .                      C.  $3 + \ln 15$ .                      D.  $\ln 15$ .

**Câu 38.** Cho số phức  $z = a + bi$  ( $a, b \in \mathbb{R}$ ) thỏa mãn  $z + 2 + i - |z|(1 + i) = 0$  và  $|z| > 1$ . Tính  $P = a + b$ .

- A.  $P = -1$ .                      B.  $P = -5$ .                      C.  $P = 3$ .                      D.  $P = 7$ .

**Câu 39.** Cho hàm số  $y = f(x)$ . Hàm số  $y = f'(x)$  có đồ thị như hình bên. Hàm số  $y = f(2-x)$  đồng biến trên khoảng

- A.  $(1; 3)$ .                      B.  $(2; +\infty)$ .  
C.  $(-2; 1)$ .                      D.  $(-\infty; -2)$ .



**Câu 40.** Cho hàm số  $y = \frac{-x+2}{x-1}$  có đồ thị  $(C)$  và điểm  $A(a; 1)$ . Gọi  $S$  là tập hợp tất cả các giá trị thực của  $a$  để có đúng một tiếp tuyến của  $(C)$  đi qua  $A$ . Tổng giá trị tất cả các phân tử của  $S$  bằng

- A. 1.                      B.  $\frac{3}{2}$ .                      C.  $\frac{5}{2}$ .                      D.  $\frac{1}{2}$ .

**Câu 41.** Trong không gian  $Oxyz$ , cho điểm  $M(1; 1; 2)$ . Hỏi có bao nhiêu mặt phẳng  $(P)$  đi qua  $M$  và cắt các trục  $x'Ox, y'Oy, z'Oz$  lần lượt tại các điểm  $A, B, C$  sao cho  $OA = OB = OC \neq 0$ ?

- A. 3.                      B. 1.                      C. 4.                      D. 8.

**Câu 42.** Cho dãy số  $(u_n)$  thỏa mãn  $\log u_1 + \sqrt{2 + \log u_1 - 2 \log u_{10}} = 2 \log u_{10}$  và  $u_{n+1} = 2u_n$  với mọi  $n \geq 1$ . Giá trị nhỏ nhất của  $n$  để  $u_n > 5^{100}$  bằng

- A. 247.                      B. 248.                      C. 229.                      D. 290.

**Câu 43.** Có bao nhiêu giá trị nguyên của tham số  $m$  để hàm số  $y = |3x^4 - 4x^3 - 12x^2 + m|$  có 7 điểm cực trị?

- A. 3.                      B. 5.                      C. 6.                      D. 4.

**Câu 44.** Trong không gian  $Oxyz$ , cho hai điểm  $A(2; 2; 1), B\left(-\frac{8}{3}; \frac{4}{3}; \frac{8}{3}\right)$ . Đường thẳng đi qua tâm đường tròn nội tiếp của tam giác  $OAB$  và vuông góc với mặt phẳng  $(OAB)$  có phương trình là

- A.  $\frac{x+1}{1} = \frac{y-3}{-2} = \frac{z+1}{2}$ .                      B.  $\frac{x+1}{1} = \frac{y-8}{-2} = \frac{z-4}{2}$ .  
C.  $\frac{x+\frac{1}{3}}{1} = \frac{y-\frac{5}{3}}{-2} = \frac{z-\frac{11}{6}}{2}$ .                      D.  $\frac{x+\frac{2}{9}}{1} = \frac{y-\frac{2}{9}}{-2} = \frac{z+\frac{5}{9}}{2}$ .

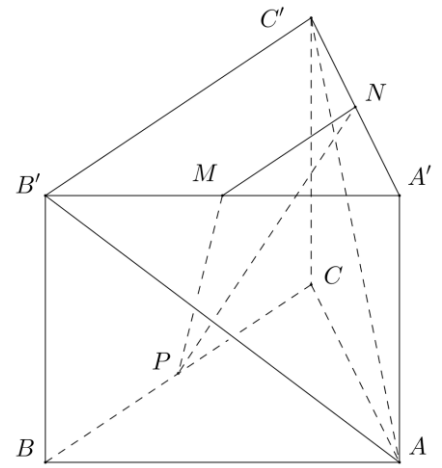
**Câu 45.** Cho hai hình vuông  $ABCD$  và  $ABEF$  có cạnh bằng 1, lần lượt nằm trên hai mặt phẳng vuông góc với nhau. Gọi  $S$  là điểm đối xứng với  $B$  qua đường thẳng  $DE$ . Thể tích của khối đa diện  $ABCDSEF$  bằng

- A.  $\frac{7}{6}$ .                      B.  $\frac{11}{12}$ .                      C.  $\frac{2}{3}$ .                      D.  $\frac{5}{6}$ .

**Câu 46.** Xét các số phức  $z = a + bi$  ( $a, b \in \mathbb{R}$ ) thỏa mãn  $|z - 4 - 3i| = \sqrt{5}$ . Tính  $P = a + b$  khi  $|z + 1 - 3i| + |z - 1 + i|$  đạt giá trị lớn nhất.

- A.  $P = 10$ .                      B.  $P = 4$ .                      C.  $P = 6$ .                      D.  $P = 8$ .

**Câu 47.** Cho hình lăng trụ tam giác đều  $ABC.A'B'C'$  có  $AB = 2\sqrt{3}$  và  $AA' = 2$ . Gọi  $M, N, P$  lần lượt là trung điểm của các cạnh  $A'B', A'C'$  và  $BC$  (tham khảo hình vẽ bên). Côsin của góc tạo bởi hai mặt phẳng  $(AB'C')$  và  $(MNP)$  bằng



- A.  $\frac{6\sqrt{13}}{65}$ .                      B.  $\frac{\sqrt{13}}{65}$ .  
 C.  $\frac{17\sqrt{13}}{65}$ .                      D.  $\frac{18\sqrt{13}}{65}$ .

**Câu 48.** Trong không gian  $Oxyz$ , cho ba điểm  $A(1;2;1), B(3;-1;1)$  và  $C(-1;-1;1)$ . Gọi  $(S_1)$  là mặt cầu có tâm  $A$ , bán kính bằng 2;  $(S_2)$  và  $(S_3)$  là hai mặt cầu có tâm lần lượt là  $B, C$  và bán kính đều bằng 1. Hỏi có bao nhiêu mặt phẳng tiếp xúc với cả ba mặt cầu  $(S_1), (S_2), (S_3)$  ?

- A. 5.                                      B. 7.                                      C. 6.                                      D. 8.

**Câu 49.** Xếp ngẫu nhiên 10 học sinh gồm 2 học sinh lớp 12A, 3 học sinh lớp 12B và 5 học sinh lớp 12C thành một hàng ngang. Xác suất để trong 10 học sinh trên không có 2 học sinh cùng lớp đứng cạnh nhau bằng

- A.  $\frac{11}{630}$ .                                  B.  $\frac{1}{126}$ .                                  C.  $\frac{1}{105}$ .                                  D.  $\frac{1}{42}$ .

**Câu 50.** Cho hàm số  $f(x)$  có đạo hàm liên tục trên đoạn  $[0;1]$  thỏa mãn  $f(1) = 0, \int_0^1 [f'(x)]^2 dx = 7$  và

$\int_0^1 x^2 f(x) dx = \frac{1}{3}$ . Tích phân  $\int_0^1 f(x) dx$  bằng

- A.  $\frac{7}{5}$ .                                      B. 1.                                      C.  $\frac{7}{4}$ .                                      D. 4.

----- HẾT -----